

Schéma de la maison - Chambre n°1 (Simple allumage)

Nom :

Date :

Observations :

20

Ce devoir doit être fait à partir du projet d'étude pour la rénovation de la maison de M. CARPUAT.

Pour **voir** la vidéo de la **chambre 1 aller** sur la chaîne Youtube electrotoile - Playlist Maison 3D.

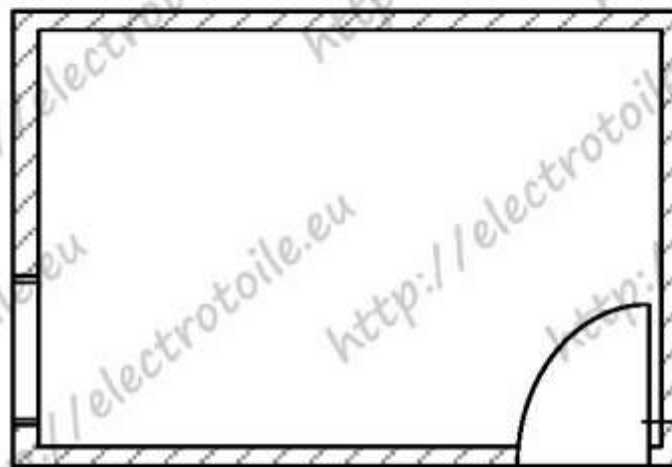
ou electrotoile.eu/renovation_maison_dossier.php

Information : la notation tiendra compte du soin, de la propreté apportée aux schémas (utilisation de la règle) et à l'utilisation des couleurs pour les conducteurs.


L'étude portera **seulement** sur les circuits énoncés dans le tableau ci-dessous :

Pièce	Accès	Nom du circuit	Récepteurs
Chambre 1	1 endroit	Simple allumage	1 lampe et 1 prise commandée
		Prise de courant	4 prises de courant classique

1. **Dessiner** le plan architectural de la chambre n°1, **représenter** les arrivées d'énergie en pointillés. /3




2. **Dessiner** le schéma développé de la chambre n°1. /5



/8

3. Dessiner le schéma unifilaire de la chambre n°1, respecter les arrivées d'énergie.

/4



4. Dessiner le schéma multifilaire de la chambre n°1, respecter les arrivées d'énergie.

/8

